

→ **Reconstitue** les trois problèmes en désordre.

3 amis prennent une glace à la plage. La glace est à 4€.
Combien paient-ils au total ?

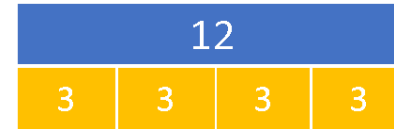
Pour le goûter, j'achète 2 douzaines de chouquettes.
Combien de chouquettes ai-je acheté ?

Au marché, la vendeuse a vendu 4 boîtes de 6 œufs.
Combien d'œufs a-t-elle vendus au total ?


J'ai acheté 24 chouquettes.

Ils paient 12 euros.

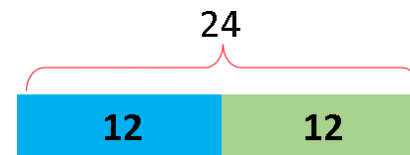
Elle a vendu 24 œufs.



$$3 \times 4 = 12$$



$$4 \times 6 = 24$$



$$2 \times 12 = 24$$